



# Geschickt einkaufen

#Einzelaufgabe



## Einführung

Du bist auf der Herbstmesse und hast Lust auf ein paar Süssigkeiten. Dafür hast du genau 20 Franken zur Verfügung. Überlege dir also gut, wofür du dein Geld ausgeben möchtest.

## Aufgabe

Jeder Marktstand an der Herbstmesse verkauft jeweils zwei Sorten Süssigkeiten. Zum Beispiel Maagebrot und Mäsmögge oder Rahmdäafeli und Zuckerwatte. Wie setzt du jeweils deine 20 Franken ein? Besuchst du einen oder mehrere Marktstände?

## Geräte und Materialien

- Drucker und A4-Druckerpapier
- Bleistift

## Verknüpfte Aufgaben

- 6.1 Verkäuferlis spielen
- 7.2 Probiert einmal!

## Aufgabenbeispiel


Marktstand D verkauft Mäsmögge und Maagebrot. Um deine 20 Franken optimal einzusetzen, könntest du es wie folgt machen:

$$4 \text{ MÄSSMÖGGE} \cdot 2 \text{ FRANKEN} = 8 \text{ FRANKEN}$$


$$2 \text{ MAAGEBROT} \cdot 6 \text{ FRANKEN} = 12 \text{ FRANKEN}$$

---



$$\text{ZUSAMMEN} = 20 \text{ FRANKEN}$$



**A**




5 Franken




1 Franken

**B**

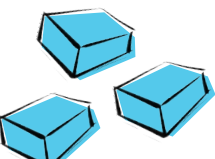


5 Franken




2 Franken

**C**




2 Franken

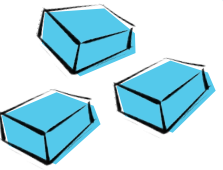


4 Franken

**D**



4 Franken



4 Franken